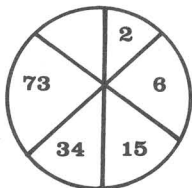
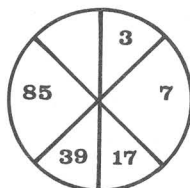


Piense ... y Sonría

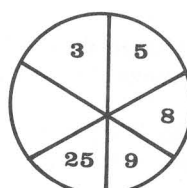
¿Qué números faltan?



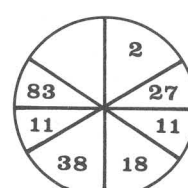
A




B



C



D



¿Qué letra falta? ¿Qué número? ¿En qué posición irán?

1
A

C
3

5
E

Soluciones

Cada una se eleva al cuadrado y se añade un 2 constante).
 La primera es: 0 3 6 9
 Cuadrado: 0 9 36 81
 Más dos: 2 11 38 83
 La segunda: 5 4 3 2
 Cuadrado: 25 16 9 4
 Más dos: 27 18 11 16

A = 152 (Multiplicar cada número por 2 y sumar 2, 3, 4, 5 y 6)
 B = 179 (Multiplicar por dos el número precedente y añadirle 1, 3, 5, 7 y 9)
 C = 64 (Los números se oponen a sus cuadrados.)
 D = 6 (Hay dos series alternantes.

¿Qué letra falta? ¿Qué número?

¿En qué posición irán?

7
6